

『津島の達人ジュニア検定』出前授業



市の花



市の鳥

【1】知っていますか



津島神社の門



藤の花



巻藁舟

★ テキストを見て答えましょう

【2】 次の写真は、かつて津島神社にまつられていた天王です。下の中から、記号で答えなさい。【ヒント5津島神社と祭り】


- ア 牛頭（ごず）天王 イ 津島天王
ウ 尾張天王 エ 四天王



【3】 尾張地方で弥生時代につくられ、溝に囲まれた四角形の墓の名前を記号で答えなさい。

【ヒント1大昔の世の中】

- ア 方形周溝墓（ほうけいしゅうこうぼ）
イ 方墳(ほうふん)
ウ 甕棺（かめかん）
エ 墳丘墓（ふんきゅうぼ）



★ テキストを見てこたえましょう。

【4】『信長公記』（しんちょうこうき）には、津島で織田信長が天人の衣装を着たという記述があります。その時、信長は天人の衣装で何をしたか、記号で選びなさい。

【ヒント 3 天下統一の世の中へ】

ア 鉄砲撃(てっぽううち) イ 女踊(おんなおどり)
ウ すもう エ 幸若舞(こうわかまい)

【5】加藤清正の少年時代の出来事をもとにしたお祭りが津島の上河原町で今も行われています。さて、このお祭りの名前は何というのでしょうか。記号で答えなさい。

【ヒント 5 津島神社と祭り】

ア 花祭り イ 麦祭り ウ 鬼祭り エ 藤まつり




【6】尾張津島天王祭はどんな祭ですか。尾張津島天王祭は（ ）と（ ）の2つの祭りが行われます。【ヒント 5津島神社と祭り】



ぼくは、マッキー。
（ ）舟)から
生まれました。ちな
みに、朝祭の舟は
（ ）舟)と言
います。

【7】江戸時代、津島には大きな街道がありましたか。津島には（ ）街道と（ ）街道と呼ばれる大きな道が通っていました。【ヒント4江戸幕府・尾張藩の世の中】



埋田追分



橋詰三叉路の道標

津島と名古屋(宮)とを結ぶ道が2つあり、枇杷島一甚目寺一木田一勝幡を通る（ ）街道と、岩塚一万場一佐屋を通る（ ）街道がありました。

【8】これは誰でしょう。

天王川公園に立つ銅像は



(

)。

天王川公園中島にある銅像は

(

)。




() は「毛織物の父」と呼ばれ、かつての尾西毛織物王国の創始者でした。

() は詩人・英文学者。日本のことを紹介。息子は国際的な彫刻家イサム・野口です。

【9】 明治24年に起きたのは、（ 震災）
昭和34年に襲ったのは、（ 台風）

【ヒント7新しい世の中】



安政の大地震

（ ）大地震

東南海大地震

大きな地震は、90年に1回
おきると言われてきました。そろそろピンチ。





「写真①」



「写真②」



「写真③」

- 【10】 「写真①」は尾張津島秋祭りの「
でひきまわす車切（しゃぎり）を行います。」です。駅前
- 【11】 「写真②」は尾張津島秋祭りの「
神社で天幕（てんまく）をあげます。」です。津島
- 【12】 「写真③」は尾張津島秋祭りの「
地区・神島田地区・津島地区（新開・古川・愛宕）に沢山
あります。」です。神守

【ヒント5 津島神社と祭り】



写真①



写真②

写真③



【13】「写真①」は馬のくつわと朱傘(しゅがさ)による()です。

【14】「写真②」は大橋武左衛門(おおはしぶざえもん)が寄付した()です。

【15】「写真③」は加藤清正(かとうきよまさ)の伝説による()です。

【ヒント5津島神社と祭り】